

第二十五届“希望杯”全国数学邀请赛

高二 第 1 试试题

一、选择题(每小题 4 分,共 40 分.)

1. 命题 $P: x$ 和 y 满足 $\begin{cases} 1 < x + y < 7, \\ 0 < xy < 10. \end{cases}$ 命题 $Q: x$ 和 y 满足 $\begin{cases} 0 < x < 5, \\ 1 < y < 2. \end{cases}$ 那么, P 是 Q 的

- ()
- (A) 充分不必要条件. (B) 必要不充分条件.
(C) 充要条件. (D) 既不充分也不必要条件.

2. 若定义在 \mathbf{R} 上的函数 $f(x)$ 满足 $f(x_1 + x_2) = f(x_1) + f(x_2)$, 则函数 $f(x)$ 一定是()

(A) 奇函数. (B) 偶函数. (C) 减函数. (D) 增函数.

3. 函数 $f(x) = |\sin 2x| + |\cos 2x|$ 的最小正周期是()

(A) $\frac{\pi}{8}$. (B) $\frac{\pi}{4}$. (C) $\frac{\pi}{2}$. (D) π .

4. 已知 A 是 $\triangle ABC$ 的一个内角, 且满足 $\cos A + \sin A = \frac{1}{2}$, 那么, $\triangle ABC$ 是()

(A) 锐角三角形. (B) 直角三角形.
(C) 钝角三角形. (D) 等边三角形.

5. 从 $1, 2, 3, \dots, 100$ 中任取 3 个数, 使这 3 个数恰好成等差数列的不同取法有()

(A) 2440 种. (B) 2450 种. (C) 2500 种. (D) 2550 种.

6. 已知数列 $\{a_n\}$ 满足 $a_n a_{n+1}^2 + 2a_{n+1} - a_n = 0 (a_n > 0), a_1 = 1$, 那么, 该数列的通项公式是

()

(A) $a_n = 2^{n-1}$. (B) $a_n = \log_4 2^{n+1}$. (C) $a_n = \tan \frac{\pi}{2^{n+1}}$. (D) $a_n = 2 \sin^2 \frac{\pi}{2^{n+1}}$.

7. If $a_1, a_2, \dots, a_{2014} \in \mathbf{R}^+$, $a_1 + a_2 + \dots + a_{2014} = 1$, and $a_1^2 + a_2^2 + \dots + a_{2014}^2 = \frac{1}{2013}$, then

the value range of a_{2014} is()

(A) $(0, \frac{1}{1006}]$. (B) $(0, \frac{1}{1007}]$. (C) $(0, \frac{1}{2013}]$. (D) $(0, \frac{1}{2014}]$.

8. 在平面直角坐标系内, 已知点 $A(1, 3)$, 点 $B(3, 1)$, 若点 C 在抛物线 $y^2 = -2x$ 上, 则 $\triangle ABC$ 的面积的最小值是()

(A) $\frac{7}{4}$. (B) $\frac{7}{2}$. (C) $\frac{475}{16}$. (D) $\frac{217}{8}$.

9. 若 $\lambda < 5x + 3y$ 对一切满足 $\log_{\frac{3}{2}}(3x - y - 6) < \log_{\frac{3}{2}}(8y - 3x + 24)$ 的 x, y 都成立, 则实数 λ 的最大值是()

(A) -2 . (B) -1 . (C) 2 . (D) 5 .

10. 如图 1, 椭圆的中心在坐标原点 O , 顶点分别是 A_1, A_2, B_1, B_2 , 焦点分别是 F_1, F_2 , 延长 $B_2 F_2$ 交 $A_2 B_1$ 于点 P . 若 $\angle B_2 P A_2$ 是钝角, 则此椭圆的离心率的取值范围是()

(A) $(0, \frac{\sqrt{5} + 1}{4})$. (B) $(\frac{\sqrt{5} + 1}{4}, 1)$.
(C) $(0, \frac{\sqrt{5} - 1}{2})$. (D) $(\frac{\sqrt{5} - 1}{2}, 1)$.

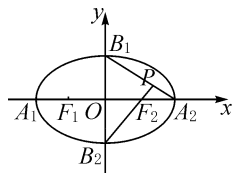


图 1

二、A 组填空题(每小题 4 分,共 40 分.)

11. $\frac{1}{1+\sqrt{2}} + \frac{1}{\sqrt{2}+\sqrt{3}} + \frac{1}{\sqrt{3}+\sqrt{4}} + \dots + \frac{1}{\sqrt{15}+\sqrt{16}} =$ _____.

12. 在平面直角坐标系 xOy 中,直线 $l:ax+by+c=0$ 被圆 $C:x^2+y^2=16$ 截得的弦的中点为 M . 若 $a+3b-c=0$,则 OM^2 的最大值是 _____.

13. 当 $x \geq 1$ 时, $f(x)=ax^2-2x+3 \geq 0$ 恒成立,则 a 的最小值是 _____.

14. 过 $\triangle ABC$ 的重心的直线 PQ 交 AC 于点 P ,交 BC 于点 Q . 若 $\vec{PC} = \frac{2}{3}\vec{AC}$, $\vec{QC} = n\vec{BC}$, 则 n 的值是 _____.

15. 如图 2, $\odot O$ 是等腰梯形 $ABCD$ 的内切圆, M 是切点, AM 、 BM 分别与 $\odot O$ 交于点 P 、 T , 则 $\frac{AM}{AP} + \frac{BM}{BT}$ 的值等于 _____.

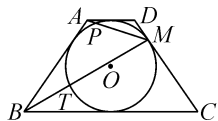


图 2

16. 如图 3, 正三棱柱 $ABC-A'B'C'$ 的底面边长是 1, 点 D 、 E 分别是棱 $A'C'$ 、 $B'C'$ 的中点, 四边形 $ADEB$ 的面积是 $\frac{3}{4}$, 则 $AA' =$ _____.

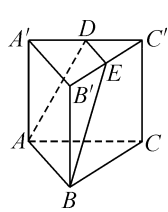


图 3

17. 正方体的中心、顶点以及各面的中心, 共 15 个点, 可以组成 _____ 个三角形.

18. 在平面直角坐标系内, 曲线 $\log_x y = \log_y x$ 与抛物线 $y = x^2$ 的交点的个数是 _____.

19. 当 $0 < \theta \leq \frac{\pi}{2}$ 时, 不等式 $\cos 2\theta + 2a \sin \theta - 2 \leq 0$ 恒成立, 则参数 a 的取值范围是 _____.

20. 若直线 l 与椭圆 $x^2 + \frac{y^2}{4} = 1$ 相切, 则 l 与坐标轴所围成的三角形的面积的最小值是 _____.

三、B 组填空题(每小题 8 分,共 40 分.)

21. 函数 $f(x) = x^3 - x^2 - x + 1$ 在 $[-\frac{1}{2}, \frac{1}{2}]$ 上的最大值是 _____, 最小值是 _____.

22. 已知 $f(1,1)=1, f(2,1)=2, f(2,2)=4, f(3,1)=7, f(3,2)=11, f(3,3)=16, f(4,1)=22, f(4,2)=29, \dots$, 如此继续下去, 则 $f(5,5) =$ _____, $f(100,1) =$ _____.

23. $\triangle ABC$ 的外接圆半径为 2, 三个内角满足 $2\sin^2 \frac{A+B}{2} - \cos 2C = 1$, 则 $C =$ _____ $^\circ$, $\triangle ABC$ 的面积的最大值是 _____.

24. As shown in the Fig. 4. Suppose the base of rectangular box $ABCD - A'B'C'D'$ is a square with length 1. Let M be the midpoint of BB' . If the plane AMC is perpendicular to plane $A'MC'$, then the height of the rectangular box $ABCD - A'B'C'D'$ is _____, and its surface area is _____.

(英汉词典: base 底; rectangular box 长方体; be perpendicular to 垂直于)

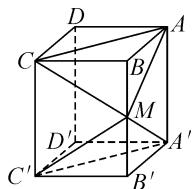


Fig. 4

25. 若数列 $\{a_n\}$ 满足 $(3+a_{n+1})(2-a_n) = 6(a_n \neq 0), a_1 = 1$, 则

$a_2 =$ _____, $\frac{1}{a_1} + \frac{1}{a_2} + \dots + \frac{1}{a_n} =$ _____.

高二 第 1 试答案

题号	1	2	3	4	5	6	7	8	9	10
答案	B	A	B	C	B	C	B	B	A	D
题号	11		12		13		14		15	
答案	3		10		$\frac{1}{3}$		$\frac{2}{3}$		10	
题号	16		17		18		19		20	
答案	$\frac{\sqrt{13}}{4}$		436		0		$a \leq \sqrt{2}$		2	
题号	21					22				
答案	$\frac{32}{27}; \frac{3}{8}$					106; 12253726				
题号	23			24			25			
答案	120; $\sqrt{3}$			$\sqrt{2}; 2+4\sqrt{2}$			3; $6-6 \times (\frac{2}{3})^n - n$			